














## WÜRFELSPIELEREI



### 1 VERVOLLSTÄNDIGE DIE RECHNUNGEN!

$3 + \square = 7$  $\square \Rightarrow 7$	$1 + \square = 7$  $\square \Rightarrow 7$	$5 + \square = 7$  $\square \Rightarrow 7$	$2 + \square = 7$  $\square \Rightarrow 7$
$5 + \square = 7$  $\square \Rightarrow 7$	$4 + \square = 7$  $\square \Rightarrow 7$	$3 + \square = 7$  $\square \Rightarrow 7$	$6 + \square = 7$  $\square \Rightarrow 7$
$2 + \square = 7$  $\square \Rightarrow 7$	$6 + \square = 7$  $\square \Rightarrow 7$	$1 + \square = 7$  $\square \Rightarrow 7$	$4 + \square = 7$  $\square \Rightarrow 7$

### 2 SETZE DIE RICHTIGE ZAHL EIN! IN DER LETZTEN SPALTE SOLLST DU EIGENE RECHNUNGEN ERGÄNZEN!

$6 + 1 = \square$	$5 + \square = 7$	$4 + 3 = \square$	_____
$7 + 0 = \square$	$7 - 2 = \square$	$2 + \square = 7$	_____
$7 - 5 = \square$	$7 + \square = 7$	$7 = 3 + \square$	_____
$3 + 4 = \square$	$1 + 6 = \square$	$\square = 1 + 6$	_____
$7 - 3 = \square$	$7 - 1 = \square$	$7 - 7 = \square$	_____