

















## \* Symbol = Zahl \*


Errate welche Zahl sich hinter jedem Symbol verbirgt (gleiche Symbole = gleiche Zahl).  
Achte darauf, dass die Summe am Ende jeder Zeile stimmt. Viel Spaß beim Raten!

















				16
				18
				20
				15
13	22	13	21	


 = \_\_\_\_\_


 = \_\_\_\_\_

 = \_\_\_\_\_


 = \_\_\_\_\_

				15
				17
				20
				16
20	19	13	16	

 = \_\_\_\_\_

 = \_\_\_\_\_

 = \_\_\_\_\_

 = \_\_\_\_\_