





## Rechnen mit einem Schaubild - Zahlenraum 10

8				
7				
6				
5				
4				
3				
2				
1				
				

Beantworte die Fragen. Sieh dir dazu das Schaubild genau an.

Wieviel mehr Käfer als Schmetterlinge?

Wieviel mehr Glühwürmchen als Raupen?

Wieviele Schmetterlinge und Glühwürmchen insgesamt?

Wieviel weniger Schmetterlinge als Glühwürmchen?

Wieviel weniger Raupen als Käfer?

Wieviele Glühwürmchen und Raupen insgesamt?

Wieviel mehr Raupen als Schmetterlinge?

Wieviel weniger Glühwürmchen als Käfer?

Wieviele Schmetterlinge und Raupen insgesamt?
