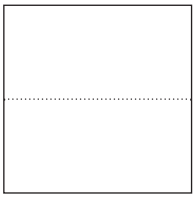
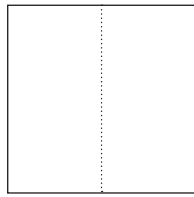


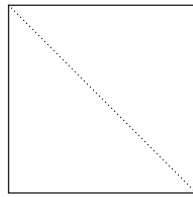
Flächen erforschen

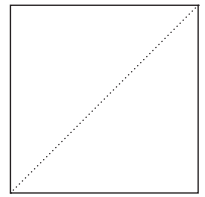
1. Schneide ein Quadrat mit der Länge von 50 mm aus. Falte es so, wie hier abgebildet!

Was entsteht dabei aus dem Quadrat?









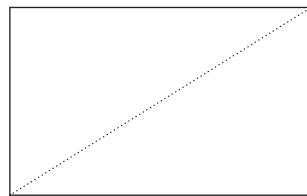


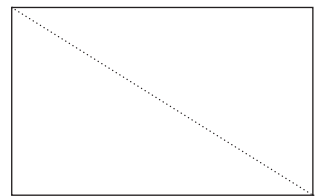
2. Schneide ein Rechteck l = 40 mm, b = 25 mm aus. Falte es so, wie hier abgebildet!

Was entsteht dabei aus dem Rechteck?












3. Das hier abgebildete Kästchen ist ein Rasterquadrat:




Wie viele Rasterquadrate haben diese vier Quadrate?












Wie viele Rasterquadrate haben diese vier Rechtecke?









Wie viele Rasterquadrate haben diese Figuren?

