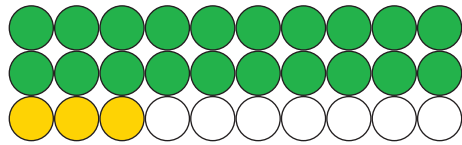


Ergänzen bis 30

1. Wieviel fehlen auf 30?

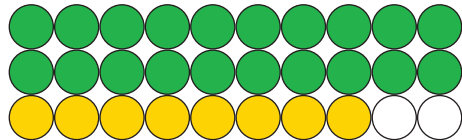
Zähle die Kugeln und ergänze wie im Beispiel auf 30.



dreiundzwanzig

| | |
|---|---|
| Z | E |
| 2 | 3 |

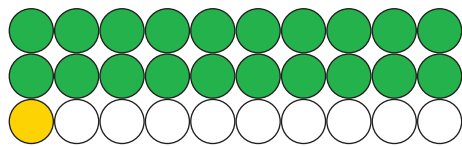
| | | | | |
|----|---|---|---|----|
| 23 | + | 7 | = | 30 |
|----|---|---|---|----|



achtundzwanzig

| | |
|---|---|
| Z | E |
| | |

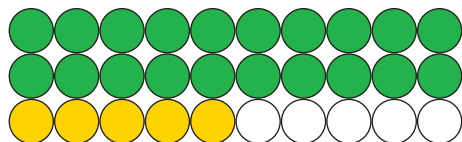
| | | | | |
|--|---|--|---|----|
| | + | | = | 30 |
|--|---|--|---|----|



einundzwanzig

| | |
|---|---|
| Z | E |
| | |

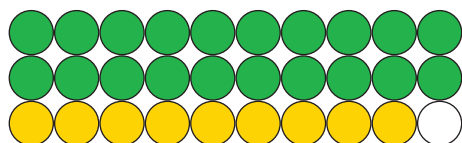
| | | | | |
|--|---|--|---|----|
| | + | | = | 30 |
|--|---|--|---|----|



fünfundzwanzig

| | |
|---|---|
| Z | E |
| | |

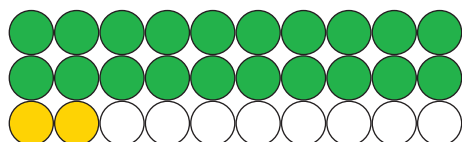
| | | | | |
|--|---|--|---|----|
| | + | | = | 30 |
|--|---|--|---|----|



neunundzwanzig

| | |
|---|---|
| Z | E |
| | |

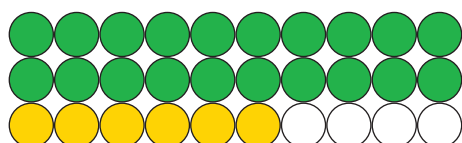
| | | | | |
|--|---|--|---|----|
| | + | | = | 30 |
|--|---|--|---|----|



zweiundzwanzig

| | |
|---|---|
| Z | E |
| | |

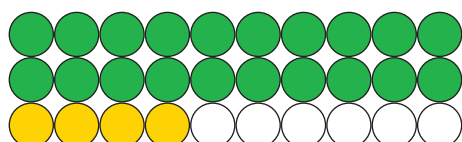
| | | | | |
|--|---|--|---|----|
| | + | | = | 30 |
|--|---|--|---|----|



sechszwanzig

| | |
|---|---|
| Z | E |
| | |

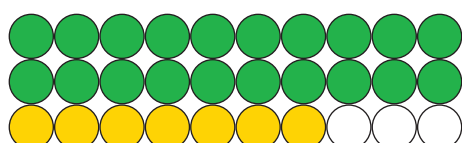
| | | | | |
|--|---|--|---|----|
| | + | | = | 30 |
|--|---|--|---|----|



vierundzwanzig

| | |
|---|---|
| Z | E |
| | |

| | | | | |
|--|---|--|---|----|
| | + | | = | 30 |
|--|---|--|---|----|



siebenundzwanzig

| | |
|---|---|
| Z | E |
| | |

| | | | | |
|--|---|--|---|----|
| | + | | = | 30 |
|--|---|--|---|----|

2. Trage die fehlenden Zahlen ein:

